

2024 年度
2/1 入学試験
社 会

注 意

1. 試験開始の合図があるまで、この冊子の中を見てはいけません。
2. 放送の指示にしたがって、問題冊子に受験番号・氏名を記入します。
次に、解答用紙の指定された場所にQRコードシールをはり、受験番号・氏名を記入します。
3. 試験時間は30分です。
4. 問題は、1ページから10ページまで印刷してあります。試験が始まったら最初に確認し、足りないページがあったら申し出てください。
5. 答えはすべて解答用紙に記入してください。
6. 試験が終わった後、問題冊子・解答用紙とも回収します。
7. 特に指定がないかぎり、国名については正式名称でなくてもかまいません。

共立女子中学校

受 験 番 号	氏 名
A	

1 共子さんたちは、自分の家族が育った時代について話しています。以下の説明と会話文を読んで、後の各問いに答えなさい。

曾祖母：1925（大正14）年生まれ。共立女子職業学校卒業。
祖母：1959（昭和34）年生まれ。共立女子中学校・高等学校卒業。
母：1985（昭和60）年生まれ。共立女子中学校・高等学校卒業。
共子：2011（平成23）年生まれ。小学6年生。

母：共子にいとこができたよ。昨日無事に生まれたって。
共子：わあ！うれしい。①2024年生まれか。ひいおばあちゃんとは大体100歳違
いになるね！ひいおばあちゃんが生まれた年って何があったんだろう。
……なにに、②普通選挙法成立？それから③成立って書いてある。
曾祖母：③は普通選挙法成立直前にできたそうだよ。普通選挙を実施して社会
主義が拡大しないように出されたんだ。後には社会主義者であるという疑い
だけで死刑にされた人もいたんだよ。
共子：へえ、④大正時代って怖いんだね。モダンガールとか、もっとかわいいイメ
ージがあったよ。ところでひいおばあちゃん、この綺麗なご本は何？
曾祖母：⑤百人一首を清書して、製本したものだよ。私がつくったの。
共子：すごいね！とてもきれいな字！ねえねえ、ところでおばあちゃんが子供
の頃ってどんな時代だったの？⑥昭和だから戦争の時代？
祖母：私が生まれたのは戦争が終わってかなり経ってからだから、実際に戦争は経
験していないよ。いわゆる⑦高度経済成長の時代だった。
共子：新橋・横浜間に初めて鉄道が走ったって、先生が授業で話していた頃のこと
かな。
祖母：それは高度経済成長期ではなくて、⑧時代の話でしょう。共子、もう
少ししっかり歴史の勉強をしたほうがよさそうね。
共子：でも私、修学旅行では⑨奈良の大仏を見てきたし、大河ドラマも欠かさず見
ているよ。去年も⑩が関ヶ原の戦いや大坂の陣で勝利した以外のこと
を知ることができて、とても面白かった。私、⑪戦国時代が特に好きなんだ。
母：最近、「平成レトロ」なんて言葉があるくらいだから、共子にとっては全
部教科書の中の話だよ。そうそう、共子が生まれた⑫平成も色々あったん
だよ。調べてごらん。

問1. 下線部①に関して、2024年に夏季オリンピックが開催される都市を答えなさい。
問2. 下線部②に関して、普通選挙とは一般的にどのような制度ですか。以下の語句を
用いて簡潔に説明しなさい。

【納税額・選挙権・年齢】

問3. 空らん ㉓ にあてはまる語句を漢字で答えなさい。

問4. 下線部㉔に関して、大正時代のできごととして、正しいものを次から2つ選び、記号で答えなさい。

ア. ロシアの皇太子が警察官によって負傷させられた。

イ. シベリア出兵を見越した米の買い占めによって、米騒動が起きた。

ウ. 株価の大暴落により、世界恐慌が起こった。

エ. 関東大震災が起こり、東京や横浜に大きな被害をもたらした。

問5. 下線部㉕に関して、百人一首の撰者ともいわれている藤原定家が編纂した、鎌倉時代の勅撰和歌集を何というか、漢字で答えなさい。

問6. 下線部㉖に関して、ア～エの昭和期に起こったできごとを古い順に並べかえなさい。

ア. 米軍が沖縄に上陸し、沖縄戦が始まった。

イ. 五・一五事件で犬養毅が暗殺された。

ウ. サンフランシスコ平和条約が締結された。

エ. 日韓基本条約が調印された。

問7. 下線部㉗に関して、高度経済成長期の社会の様子として、正しいものを次から2つ選び、記号で答えなさい。

ア. バブル経済と呼ばれる好景気が続いたのち、不景気が続いた。

イ. 東京オリンピックにともなって、東海道新幹線が営業を開始した。

ウ. アイスクリームやカレーなどの洋食が日本に入ってきた。

エ. 三種の神器と呼ばれる家電が急速に普及した。

問8. 空らん ㉘ にあてはまる語句を漢字で答えなさい。

問9. 下線部㉙に関して、東大寺の大仏を造らせたのは何天皇か、漢字で答えなさい。

問10. 空らん ㉚ には江戸幕府をひらいた人物が入ります。この人物を漢字で答えなさい。

問11. 下線部㉛に関して、武田信玄が治めていた甲斐国は、現在の何県か、漢字で答えなさい。

問12. 下線部㉜に関して、平成時代のできごととして誤っているものを次から1つ選び、記号で答えなさい。

ア. 宮沢内閣のもとで、PKO協力法が公布された。

イ. 村山内閣の時に、阪神・淡路大震災が起こった。

ウ. 55年体制が崩壊し、細川内閣から不安定な連立政権が続いた。

エ. 第4次中東戦争を機に第1次石油危機（オイルショック）が起きた。

オ. 東西ドイツが統一された。

2 次の文章を読んで、後の各問いに答えなさい。

2023年5月、①広島市で主要国首脳会議、^{つうしょう}通称「サミット」が^{かいさい}開催されました。主要国首脳会議は、主要7か国（G7）と②1つの国家連合から構成される国際会議で、毎年1回定期的に開催されています。そこでは、経済・エネルギー・発展途上国への^{えんじょ}援助・テロリズム・地球環境問題など、国際的な問題について話し合ってきました。1997年からは③が正式参加し8か国（G8）となりましたが、2014年のクリミア併合をきっかけに③は参加停止となりました。日本での開催年と開催地は、下の表1のとおりで、2000年の名護市での開催が東京以外での初めての開催となりました。

表1

年	開催地	備考
1979	東京	
1986	東京	
1993	東京	
2000	名護市	通称「九州・沖縄サミット」
2008	④洞爺湖町	通称「北海道・洞爺湖サミット」、G8サミット
2016	⑤志摩市	通称「伊勢志摩サミット」
2023	広島市	通称「広島サミット」

問1. 下線部①に関して、この会議に出席した主要7か国の首脳として、誤っているものを次から1つ選び、記号で答えなさい。

- ア. マクロン大統領 イ. スナク首相
ウ. ゼレンスキー大統領 エ. バイデン大統領

問2. 下線部②に関して、サミットに参加しているのは、ヨーロッパの国々の国家連合です。その略称として、正しいものを次から1つ選び、記号で答えなさい。

- ア. ASEAN イ. TPP ウ. APEC エ. EU

問3. 空らん③にあてはまる語句を答えなさい。

問4. 下線部④に関して、洞爺湖町にある洞爺湖はカルデラ湖です。同じカルデラ湖として、あてはまらないものを次から1つ選び、記号で答えなさい。

- ア. 田沢湖 イ. 十和田湖 ウ. 浜名湖

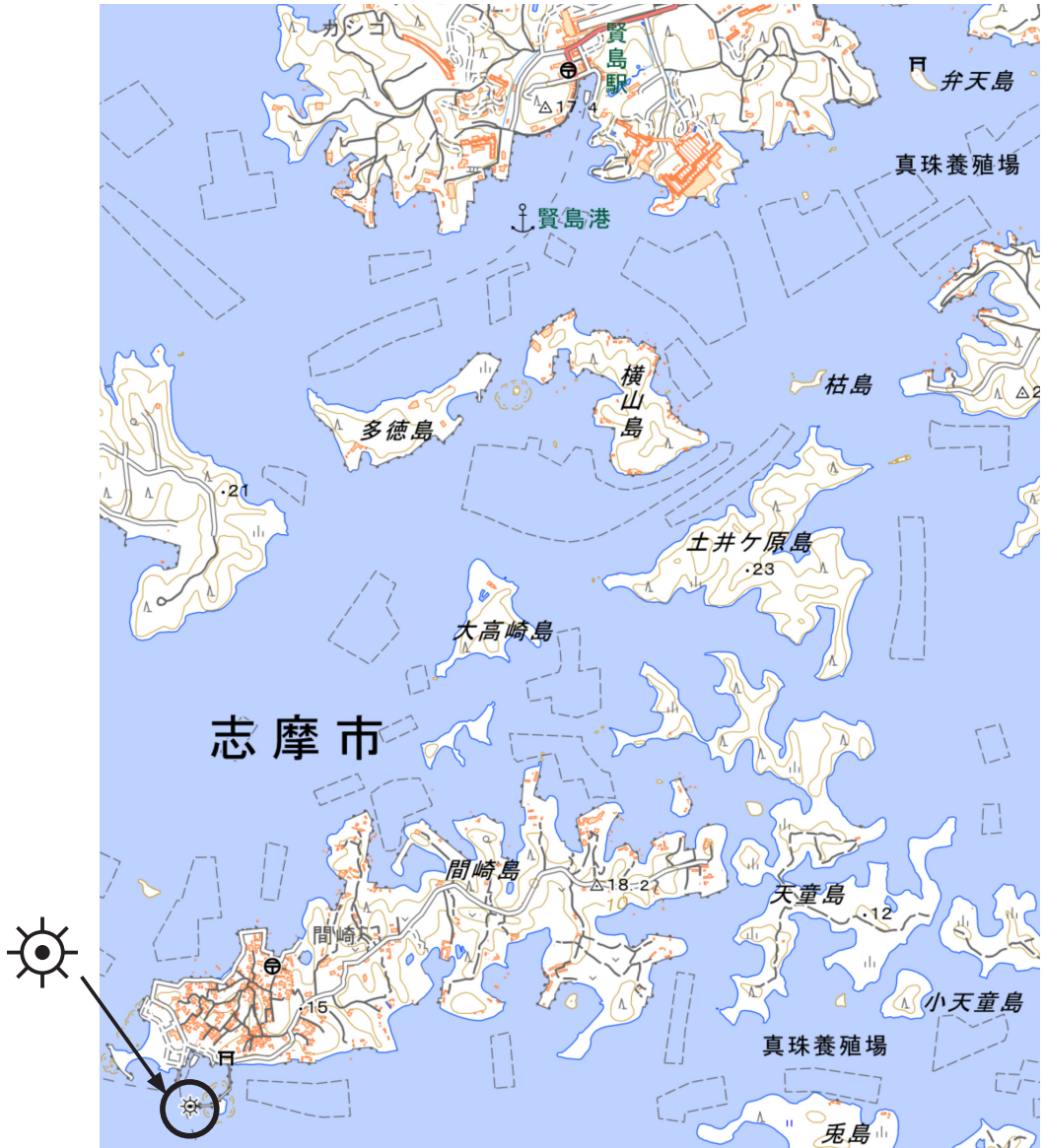
問5. 下線部⑤に関して、下の図1は志摩市付近の地形図です。これを見て、以下の各問いに答えなさい。

(1) 図1の海岸の地形とは異なる成り立ちの地形がみられる地域として、正しいものを次から1つ選び、記号で答えなさい。

ア. 若狭湾 イ. 室戸岬 ウ. 三陸海岸

(2) 図1には「真珠養殖場」が複数みられます。この地域で真珠の養殖が盛んな理由を簡潔に説明しなさい。

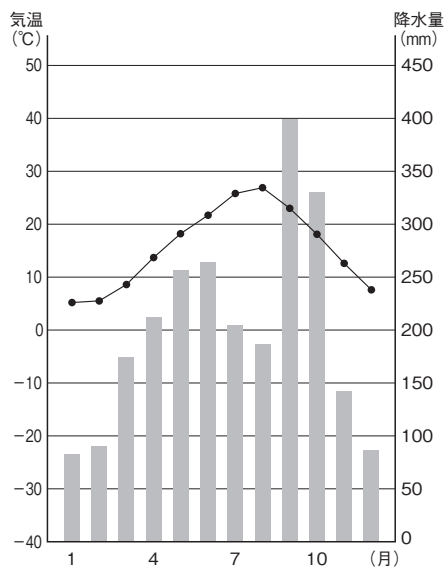
(3) 図1の丸印の地図記号の名前を答えなさい。



(地理院地図より作成・一部編集)

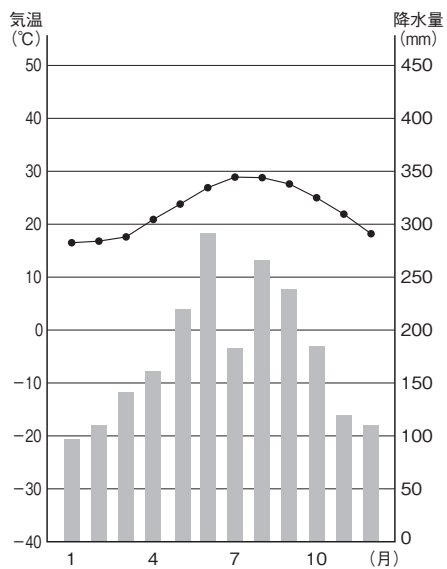
図1

問6. 次の図2のA～Cは、表1の名護市、志摩市（数値は隣接する鳥羽市のもの）、
 広島市のいずれかの気温と降水量を示したものです。A～Cと都市名の組み合わせ
 として、正しいものを後のア～カから1つ選び、記号で答えなさい。



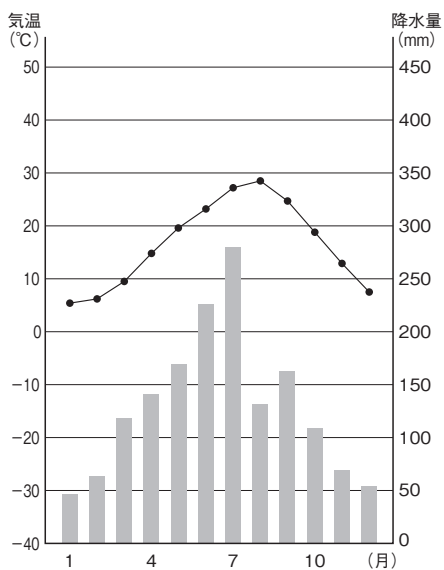
年平均気温：15.6°C 年降水量：2428.5mm

A



年平均気温：22.8°C 年降水量：2120.7mm

B



年平均気温：16.5°C 年降水量：1572.2mm

C

(気象庁ホームページより作成)

図2

- ア. [A : 名護市 B : 志摩市 C : 広島市]
イ. [A : 名護市 B : 広島市 C : 志摩市]
ウ. [A : 志摩市 B : 名護市 C : 広島市]
エ. [A : 志摩市 B : 広島市 C : 名護市]
オ. [A : 広島市 B : 名護市 C : 志摩市]
カ. [A : 広島市 B : 志摩市 C : 名護市]

3 次の会話文を読んで、後の各問いに答えなさい。

共子：ねえ、世界三大料理って知っている？

立子：知ってるよ。フランス料理，中華料理，日本料理でしょ？

共子：残念！ 日本料理ではなくてトルコ料理でした。

立子：①トルコ？ へー意外。

共子：私もちょっと意外に思ったんだけど，インターネットで調べると出てきたの！
オリーブオイルを使って，トマトやナス，羊の肉，そしてヨーグルトとかんきつ
類で味付けをするらしいの。ケバブっていうのが有名なんだって。

立子：羊の肉？ ^{めずら}珍しいね。私は食べたことないな。それにヨーグルトを料理に使う
というのは意外だなあ。

共子：②豚肉にしらないのは，宗教上の理由かららしいよ。ところで，中華料理は豚肉
が中心だけど，最近では ③ 肉も使われるようになってきたみたいね。
中華料理発祥の地である中国では，④大豆の輸入量も多くなってきているの。
大豆は油をしぼって，残りは豚や ③ の飼料になるから。

立子：文化的背景が違えば，^{ちが}食べる肉の種類も違うってことかあ。

共子：そう，だからフランス料理はバターを使うことが多いわけ。フランスの国民一
人当たりのバターの消費量は1年で日本の10倍以上というデータがあるよ。だ
いたい8～9kg。

立子：えっ，そういえばクロワッサンにもたっぷりバターが入っているね。

共子：フランスでは ③ の飼育が中心でお肉もおいしいし，パンもおいしいよね。

立子：ところで日本はどうなの？

共子：日本の和食が2013年にユネスコの ⑤ に登録されてからは，世界でも人気
が出てきているみたい。

立子：一昨年しんこうの2月からロシアがウクライナに軍事侵攻をしていることで，世界の食
料の輸送と価格が不安定になっているじゃない。世界のどこにいても満足にお
いしく食事ができるような平和な世界になってほしいものね。

問1. 下線部①に関して、トルコの位置として正しいものを次の図1のア～ウから1つ選び、記号で答えなさい。



(周辺の島の一部は省略しています)

図1

問2. 下線部②に関して、宗教上の理由から豚肉を食べないのは、どの宗教を信仰する人々か、正しいものを次から1つ選び記号で答えなさい。

ア. イスラム教 イ. キリスト教 ウ. 儒教

問3. 空らん にあてはまる動物を、漢字1字で答えなさい。

問4. 下線部④に関して、大豆の世界的な生産国として誤っている国を1つ選び、記号で答えなさい。

ア. アメリカ合衆国 イ. ブラジル ウ. 日本 エ. アルゼンチン

問5. 空らん にあてはまる語句として、正しいものを次から1つ選び、記号で答えなさい。

ア. 産業遺産 イ. 自然遺産 ウ. 文化遺産 エ. 無形文化遺産

4 次の文章を読んで、後の各問いに答えなさい。

全ての権力を特定の人や機関が独占すると、権力が濫用されて、国民の基本的人権が侵害される可能性があるため、①政治権力を立法、行政、司法の3つに分散し、それぞれを別の機関が受け持つことで、②お互いの抑制と均衡を図るしくみが考え出された。

法律を制定するのは③国会の仕事であるが、法律案は国会議員または④内閣が提出できる。日本国憲法第41条には、「国会は、⑤国権の最高機関であって、国の⑥の立法機関である。」と規定されている。しかし、実際に制定される法律は、国会議員が立案して提出する法案よりも、内閣が立案して提出する法案の方が数が多く、重要な場合が多い。

問1. 下線部①に関して、この考え方を著書『法の精神』で主張したフランスの思想家を答えなさい。

問2. 下線部②に関して、図1の矢印は、それぞれの機関が他の機関に対して抑制と均衡を図る権限を示したものです。図1のA・Bにあてはまるものとして、正しいものを後から1つずつ選び、記号で答えなさい。

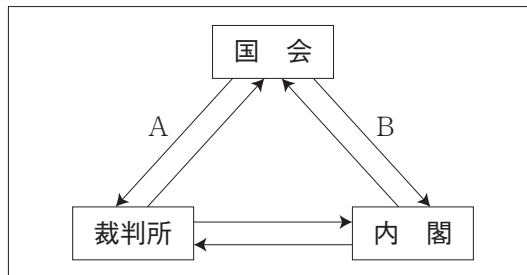


図1

- ア. 弾劾裁判所の設置 イ. 法律の違憲審査
ウ. 内閣不信任の決議 エ. 最高裁判所の長官の指名

問3. 下線部③に関して、国会の種類の一つである臨時国会（臨時会）について述べた文として、正しいものを次から1つ選び、記号で答えなさい。

- ア. 内閣が必要と認めた時、または、いずれかの議院の総議員の4分の1以上の要求があった時に開かれる。
イ. 衆議院の解散による総選挙後、30日以内に開かれる。
ウ. 次年度の予算の議決を主な目的として、150日間を会期として開かれる。
エ. 法律案の内容に関して、専門家やその法律に影響を受ける可能性のある人から意見を聞くために開かれる。

問4. 下線部④に関して、内閣の仕事として誤っているものを次から1つ選び、記号で答えなさい。

ア. 政令を制定する。

イ. 天皇の国事行為に助言と承認しょうにんをあた与える。

ウ. 条約を結び外交関係を処理する。

エ. 憲法改正を発議する。

問5. 下線部⑤に関して、国会が国権の最高機関であると位置づけられている理由を、日本国憲法の三大原則の1つと関連させながら、簡潔に説明しなさい。

問6. 空らん にあてはまる語句を漢字2字で答えなさい。

(問題はこれで終わりです)