

2023 年度
2/1 入学試験
社 会

注 意

1. 試験開始の合図があるまで、この冊子の中を見てはいけません。
2. 放送の指示にしたがって、問題冊子に受験番号・氏名を記入します。
次に、解答用紙の指定された場所にQRコードシールをはり、受験番号・氏名を記入します。
3. 試験時間は30分です。
4. 問題は、1ページから10ページまで印刷してあります。試験が始まったら最初に確認し、足りないページがあったら申し出てください。
5. 答えはすべて解答用紙に記入してください。
6. 試験が終わった後、問題冊子・解答用紙とも回収します。
7. 特に指定がないかぎり、国名については正式名称でなくてもかまいません。

共立女子中学校

受 験 番 号	氏 名
A	

1 次の会話文を読み、後の各問いに答えなさい。

共子：去年の6月に修学旅行で九州に行ったよね。

立子：なつかしいなあ！ 感染症対策を徹底して、やっと実現したんだよね。

共子：最初に福岡県を訪れて、①大宰府の政庁跡を^{あと}通ってから、②太宰府天満宮を見学したね。お昼に食べた名物の合格弁当がおいしかったなあ。

立子：その後、九州国立博物館を見学したよね。私は江戸時代に志賀島から見つかった③金印の複製が一番印象に残っているなあ。

共子：私は古墳のまわりにおかれた、土で作った が、色々な形があってもよかったなあ。

立子：その日は長崎県に移動して、長崎市内のホテルに泊まったよね。

共子：有名なイギリス商人の⑤グラバーの邸宅がすぐ近くにあったね。

立子：2日目は朝から原爆資料館を訪れて、実際に⑥原子爆弾の被害にあわれた方の講話を聞いて、資料館を見学したよね。

共子：長崎に投下された原爆の悲惨さを改めて実感したね。

立子：その後は長崎市内を班別で見学したよね。

共子：そうそう。私たちの班は、出島の資料館を見学して、江戸時代の⑦鎖国の様子を学ぶことができたよ。

立子：私たちの班は、2018年に世界遺産に登録された⑧大浦天主堂を見学したよ。

共子：3日目は半日かけてハウステンボスを周遊したよね。

立子：ハウステンボスは⑨オランダの街並みが再現されていて、とてもきれいだったね。

共子：その後、帰りの飛行機に乗るために福岡空港に向かったけど、その途中のバスの中から、土を盛り上げてつくられた⑩水城を見学したよね。

立子：3日間という短い期間だったけど、色々なことを学ぶことができたし、その土地の名物もたくさん食べることができて、本当に楽しい修学旅行だったね。

共子：私もこれまでで一番印象に残る行事になったなあ。

立子：またいつか九州に行きたいね！

問1. 下線部①は、律令体制の重要な地方官庁でしたが、その時代の外交において果たした役割を簡潔に説明しなさい。

問2. 下線部②にまつられている人物を漢字で答えなさい。

問3. 下線部③が中国の皇帝から与えられたことが記されている歴史書として、正しいものを次から1つ選び、記号で答えなさい。

ア. 魏志倭人伝 イ. 漢書地理志 ウ. 宋書倭国伝 エ. 後漢書東夷伝

問4. 空らん にあてはまる語句を漢字2字で答えなさい。

- 問5. 下線部⑤に関して、この商人を通じて、薩摩藩や長州藩に西洋式の兵器が大量に導入されたことを受けて、江戸幕府は1867年に政治の実権を朝廷に返上しました。このできごとを何というか、**漢字**で答えなさい。
- 問6. 下線部⑥が長崎に投下された日はいつですか。解答らんに合うように年月日を答えなさい。
- 問7. 下線部⑦の体制下において、日本が交流をおこなっていた国として、**誤っているもの**を次から1つ選び、記号で答えなさい。
- ア. 清 イ. 朝鮮（李氏朝鮮） ウ. ポルトガル エ. 琉球王国
- 問8. 下線部⑧を含む関連施設は、世界遺産としてどのような名称で登録されていますか。解答らんに合うように答えなさい。
- 問9. 下線部⑨から来日して、長崎郊外に私塾を開いた人物を答えなさい。
- 問10. 下線部⑩がつくられた原因である、663年に起こった戦いを答えなさい。

2 兵庫県明石市について、後の各問いに答えなさい。

問1. 図1は、兵庫県明石市周辺の地形図です。これを見て、後の各問いに答えなさい。



(地理院地図より作成・一部編集)

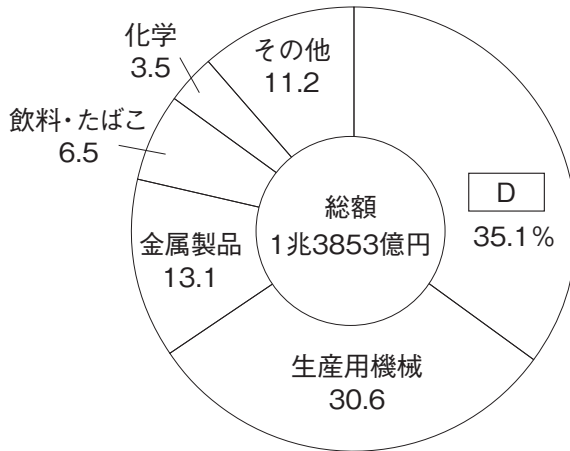
図1

(1) 図1のA～Cの地図記号の意味として、正しいものを後のア～クから1つずつ選び、記号で答えなさい。



- ア. 三角点 イ. 老人ホーム ウ. 税務署 エ. 警察署
 オ. 電子基準点 カ. 灯台 キ. 自然災害伝承碑 ク. 発電所

(2) 図2は、明石市の製造品出荷額等(2019年)の割合を示したものです。図2の D には、図1の「川崎重工業工場」で製造されている製品があてはまります。この製品として、正しいものを後のア～エから1つ選び、記号で答えなさい。



(経済産業省「工業統計調査」(2020年)より作成)

図2

- ア. 電気機械 イ. 輸送用機械 ウ. 半導体 エ. 情報通信機械

(3) 図1には「鷹匠町」, 「樽屋町」, 「材木町」といった地名が見られます。明石市にこのような地名が見られる理由を簡潔に説明しなさい。

※「鷹匠」: 鷹の飼育や訓練を担当する人のこと。

※「樽家」: 樽を作る店のこと。

問2. 兵庫県内における明石市の位置として,正しいものを図3のア～エから1つ選び,記号で答えなさい。

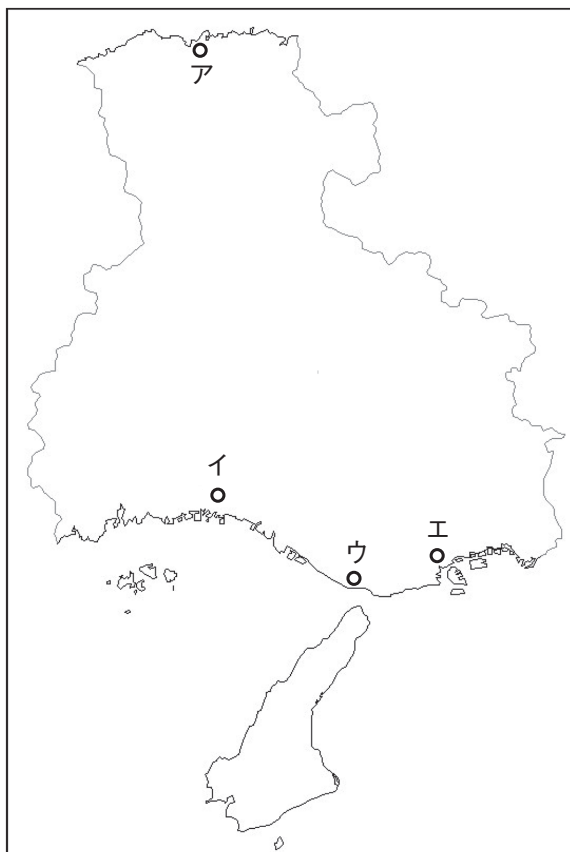


図3

問3. 図4は, 明石市で見られるマンホールの写真です。「しごせんのまち」や「135° E」という表記から, 明石市はどのような都市であることが分かりますか。解答らんに合うように答えなさい。

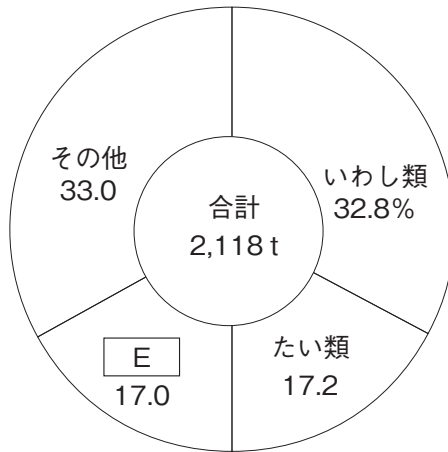


図4

問4. 明石市の東隣にある神戸市からは、高速自動車道路の通る淡路島を經由して、四国に移動することができます。この場合、四国で最初に到達する都市として、正しいものを次から1つ選び、記号で答えなさい。

ア. 今治市 イ. 坂出市 ウ. 高松市 エ. 鳴門市

問5. 図5は、明石市の魚種別漁獲量の割合(2018年)を示したものです。図5の には、明石市の特産品であり、図6の明石名物の「明石焼」にも使用される魚介類があてはまります。この魚介類を答えなさい。



(農林水産省「海面漁業生産統計調査」(2020年)より作成)

図5



図6

3 次の図1・図2は、米と小麦の生産国とその割合（2019年）を示したものです。図1～図3を見て、後の各問いに答えなさい。

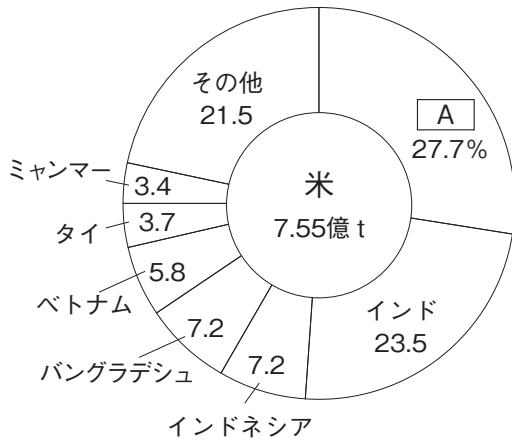


図1

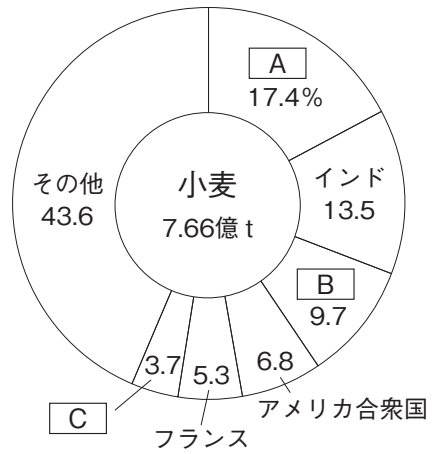


図2

(『世界国勢図会2021/22』 矢野恒太記念会 より作成)



図3

問1. 図1・図2の に関して、以下の各問いに答えなさい。

(1) にあてはまる国の位置として、正しいものを図3のア～キから1つ選び、記号で答えなさい。

(2) の国の現在の人口はおよそどのくらいですか。正しいものを次から1つ選び、記号で答えなさい。

ア. 日本の総人口の約11倍。

イ. アメリカ合衆国の総人口とほぼ同じ。

ウ. インドの総人口の約2倍。

エ. ロシアの総人口の約半分。

問2. 図1のインドネシアは、多くの島々で構成されており、土地を有効活用するために、図4のように山の上の方まで水田がつくられています。このような水田を何と
いうか、**漢字2字**で答えなさい。



(インドネシア共和国観光省ホームページより作成)

図4

問3. 図2の にあてはまる国の位置として、正しいものを図3のア～キから1つ
選び、記号で答えなさい。

問4. 図2の にあてはまる国は、昨年2月に、隣国である の国から武
力侵攻を受けました。 の国名を答えなさい。

問5. 表1は、インド、インドネシア、ベトナムのいずれかの国の輸出額上位3品目とその割合（2019年）を示したものです。「ベトナム」を示すものとして、正しいものをア～ウから1つ選び、記号で答えなさい。

表1

国名	輸出総額 (億ドル)	輸出額上位3品目とその割合					
【ア】	3,232	石油製品	13.5%	機械類	11.5%	ダイヤモンド	6.8%
【イ】	1,670	石炭	13.0%	パーム油	8.8%	機械類	8.3%
【ウ】	2,646	機械類	41.7%	衣類	11.7%	はきもの	7.2%

(『世界国勢図会2021/22』 矢野恒太記念会 より作成)

問6. 日本の農業の歴史に関して述べた文として、誤っているものを次から1つ選び、記号で答えなさい。

- ア. 鎌倉時代は、現在に比べて気温が低かったため、水田の裏作として麦の栽培をおこなう二毛作が始まった。
- イ. 江戸時代は、小氷期と呼ばれる気温が低い時期だったため米が不作となり、何度も飢饉が発生した。
- ウ. 北海道は寒冷地だったが、品種改良が進み、明治時代からは「ななつぼし」などの銘柄米の栽培がおこなわれるようになった。
- エ. 1960年代には米の消費量が減り、米が余り気味になったため、1970年代から減反政策が本格的に実施されるようになった。

4 次の会話文を読み、後の各問いに答えなさい。

共子：去年の7月に選挙があったでしょ。高校3年生の姉が18歳^{さい}になっていたので投票する権利があったんだけど、実際は行かなかったんだよね。理由を聞いたなら、「誰^{だれ}に投票したらいいか分からないから」と言ってたの。どう思う？

立子：自分の考えに合う人がいなかったってことじゃない？ 自分と考え^{ちが}が違う候補者に投票するのは無責任な感じがするなあ。

共子：でも、支持できる候補者がいなくても、支持できる政党があればそれを基準にして投票したっていいんじゃないかなあ。国会内でも多くの人が政党に所属して、政党ごとに政策を提案しているわけだし。①政党名で投票するしくみもあるしね。

立子：確かにそういう考え方もあるね。お姉さんは7月に投票に行かなかったということは、②最高裁判所裁判官の国民審査についても投票しなかったのね。

共子：そのことなんだけど、私も最初そう思って姉に聞いたら、国民審査は③ 議員の選挙の時におこなわれるもので、今回はその投票はなかったんだって。

立子：そうだったんだ。日本は④三権分立のしくみを取り入れているけど、国会や裁判所のメンバーを決める時に、「⑤選挙」という形で国民が関わることができるようになっているんだね！

問1. 下線部①に関して、政党名などで投票し、その得票数に応じて各政党に議席を割り振る選挙制度を何というか、漢字5字で答えなさい。

問2. 下線部②は、違憲審査の判断について最終決定権を持つことから何と呼ばれますか。解答らん^{らん}に合うように漢字2字で答えなさい。

問3. 空らん ③ にあてはまる語句を漢字で答えなさい。

問4. 下線部④に関して、国会が裁判所に対して持っている権限について、「裁判官」という語句を必ず用いて簡潔に説明しなさい。その際、国会が三権の中のどの権限を持っているかを明記すること。

問5. 下線部⑤に関わることを担当する大臣として、正しいものを次から1つ選び、記号で答えなさい。

ア. 法務大臣 イ. 財務大臣 ウ. 総務大臣 エ. 文部科学大臣

(問題はこれで終わりです)

